



課題六 世界貿易

一、參觀展區 A「世界貿易館」，完成以下問題。

1. 根據展品 A01，指出甚麼是「世界貿易」。





貿易是指個體 (個人、企業、國家) 之間的 _____ 或 _____

互換，並且經常牽涉使用 _____ 進行交易。一個讓貿易得以進行的系統

或網絡稱為「_____」。

2. 世界貿易對以下事物有甚麼影響？根據展品 A06 至 A12，思考這些影響是利是弊，然

後把代表事物的英文字母填寫在適當的方格內。

<p>A 工作效率？</p> 	<p>B 勞工生計？</p> 	<p>C 工作成本？</p> 	<p>D 社會發展？</p> 
--	--	---	--

<p>E 中外交流？</p> 	<p>F 消費者？</p> 	<p>G 本地製造業？</p> 
--	---	---

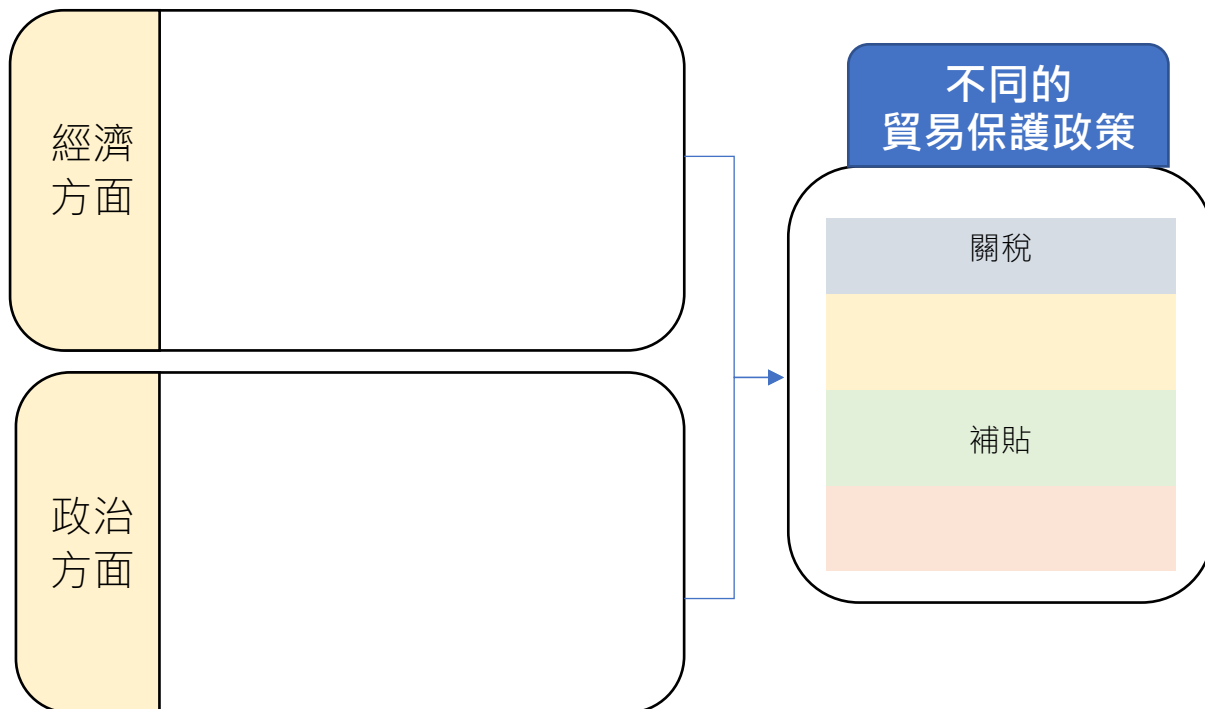
<p>利處</p>	<p>弊處</p>
-----------	-----------

二、參觀展區 B「貿易保護與經濟安全」，完成以下問題。

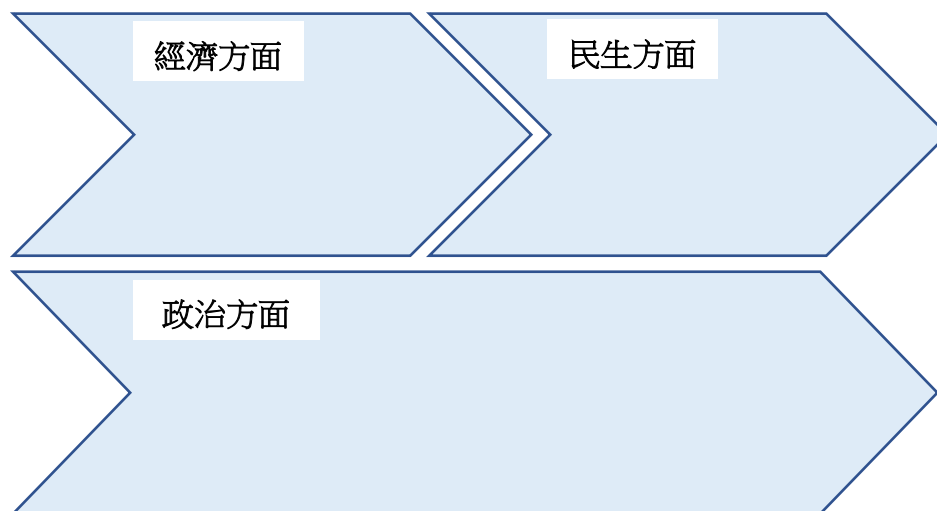
1. 根據展品 B01 的內容，指出甚麼是保護政策。

貿易保護政策是一種限制_____的外貿政策，即國家採取各種限制_____的措施以保護其本國市場免受外來商品的競爭，並對本國_____商品給予優惠和津貼以鼓勵其出口。

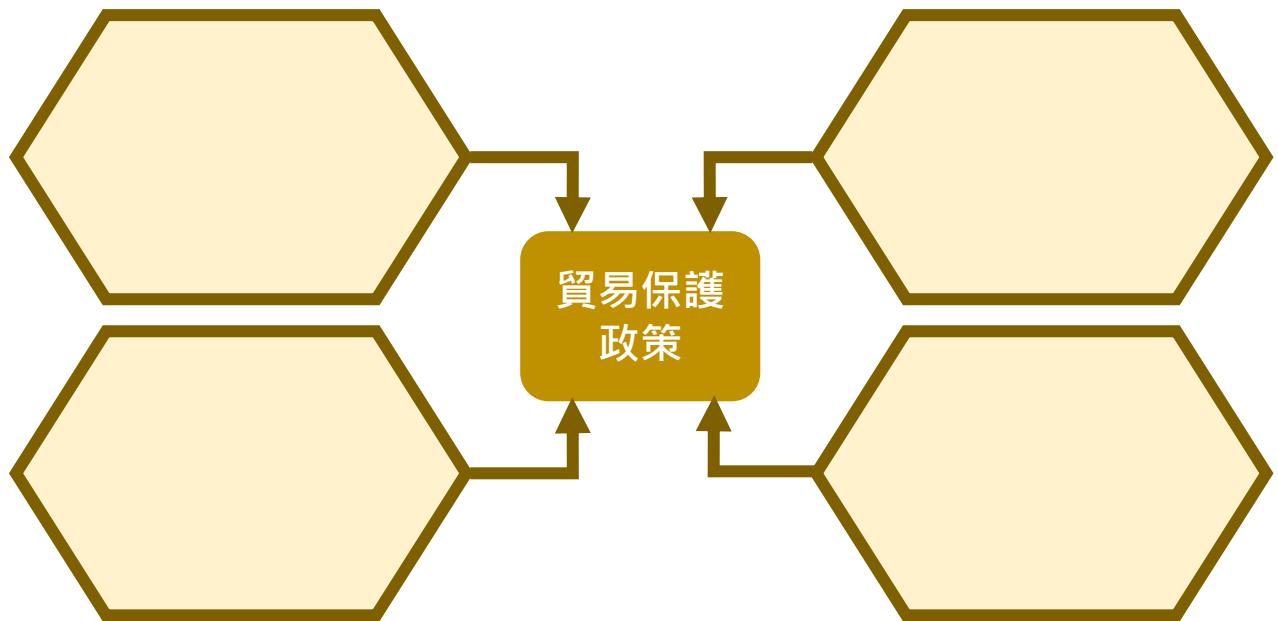
2. 根據展品 B02 至 B07 的內容，指出實施貿易保護政策的原因。



3. 根據展品 B08 至 B10 的內容，指出保護政策可能為其他國家帶來的衝擊。

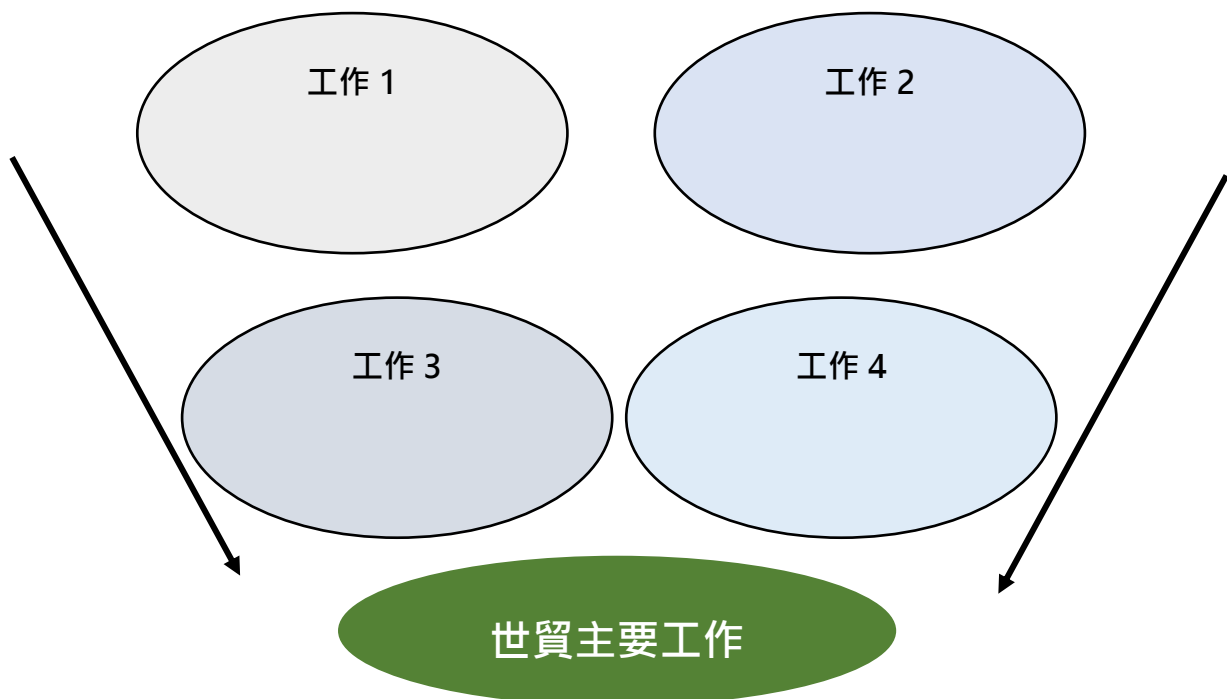


4. 根據展品 B11 至 B14，指出一些國家怎樣應該貿易保護政策。



5. 根據展品 B15 至 B19，簡單介紹世界貿易組織是一個怎樣的組織以及其主要工作。

世貿組織是：_____



延伸資料

香港特區工業貿易署〈世界貿易組織〉

https://www.tid.gov.hk/tc_chi/ito/wto/wto_overview.html



中國文化研究院 當代中國 影片

〈中國入世：為甚麼中國要加入世貿 (WTO)〉

<https://www.youtube.com/watch?v=A5U6OcXjT90>



三、參觀展區 C「中國內地與香港的對外貿易」，完成以下問題。

1. 根據展品 C01 至 C02，回答以下問題。

中國內地的進出口貿易總額，由 1995 年的_____億元人民幣，上升至

2020 年的_____億元人民幣，上升了超過(一 / 五 / 十)倍，可見中

國內地近年的進出口貿易總額上升非常強勁。

中國的最大貿易伙伴是_____。

2. 根據展品 C02 並閱讀以下資料，回答問題。

我國的貿易夥伴更趨多元。2020 年，我國前五大貿易夥伴依次為東盟、歐盟、美國、日本和韓國，對上述貿易夥伴進出口分別為 4.74、4.5、4.06、2.2 和 1.97 萬億元，分別增長 7%、5.3%、8.8%、1.2%和 0.7%。此外，我國對「一帶一路」沿線國家進出口 9.37 萬億元，增長 1%。

取材自中央人民政府〈國務院新聞辦就 2020 年全年進出口情況舉行發布會〉

資料顯示，在我國前五大貿易夥伴中，它們大部分位於 (亞洲 / 非洲 / 歐洲 / 美洲)。

這些國家是位於「_____」沿線國家。

3. 根據展品 C04 至 C05，回答以下問題。

香港的進出口貿易總額，由 1995 年的_____億港元，上升至 2020 年的_____億港元，上升了接近(一 / 二 / 五) 倍，可見香港近年的進出口貿易總額一直持續上升。

如不計算中國內地，_____是香港的最大貿易伙伴 (2021 年)。

4. 根據展品 C07，回答以下問題。

在 2021 年，_____是全球最大的貿易國家，其貿易額高達 (60,510 / 33,640 / 26,870)億美元；至於香港，其貿易額亦有_____億美元，在世界上排名第_____。

延伸閱讀

中央人民政府 國家統計局 貿易外經統計司

http://www.stats.gov.cn/ziti/gjtjj/jgsz/xzdw/200109/t20010907_52318.html



香港特區政府 政府統計署 商品貿易

<https://www.censtatd.gov.hk/tc/scode230.html>

