



課題五 — 國際金融中心





一、參觀展區 A 「香港—國際金融中心」，完成以下問題。

1. 根據展品 A01，指出甚麼是「金融中心」，並舉例說明為甚麼香港是「國際金融中心」。

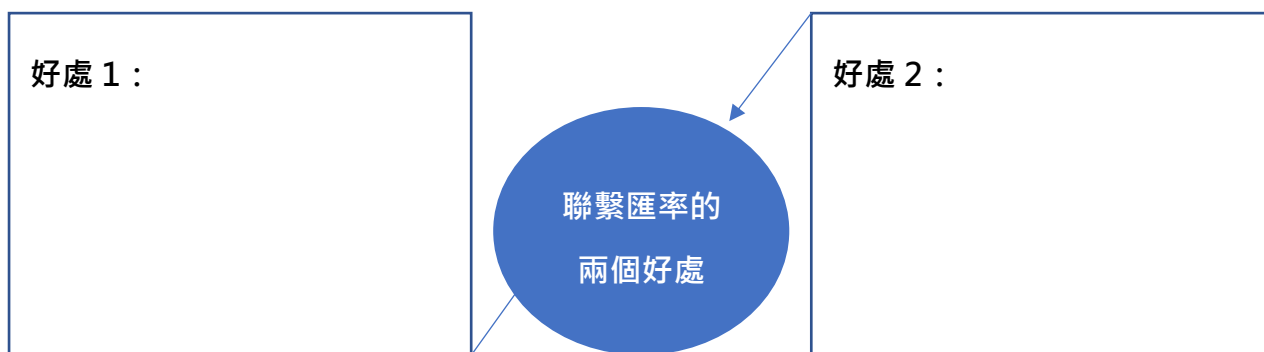
「金融中心」顧名思義，就是進行_____的地方。香港是國際金融中心，

原因是：_____

2. 根據以下情況，說出國際金融中心一般具有的特徵。

特徵	情境
	 外資銀行經理 我看好香港及內地市場的商機，因此決定在香港設立分行提供銀行服務。
	我可以隨便在街上任何一間銀行或兌換店兌換外幣。  遊客
	 香港市民 我每月都會把部分薪金購買股票、期貨或其他產品，作長線投資。
	我認為把我的財富存入銀行很安全，因為根據香港法例存款是獲得保障參。  香港市民

3. 根據展品 A07 及 08，說說香港實施聯繫匯率的兩個好處。

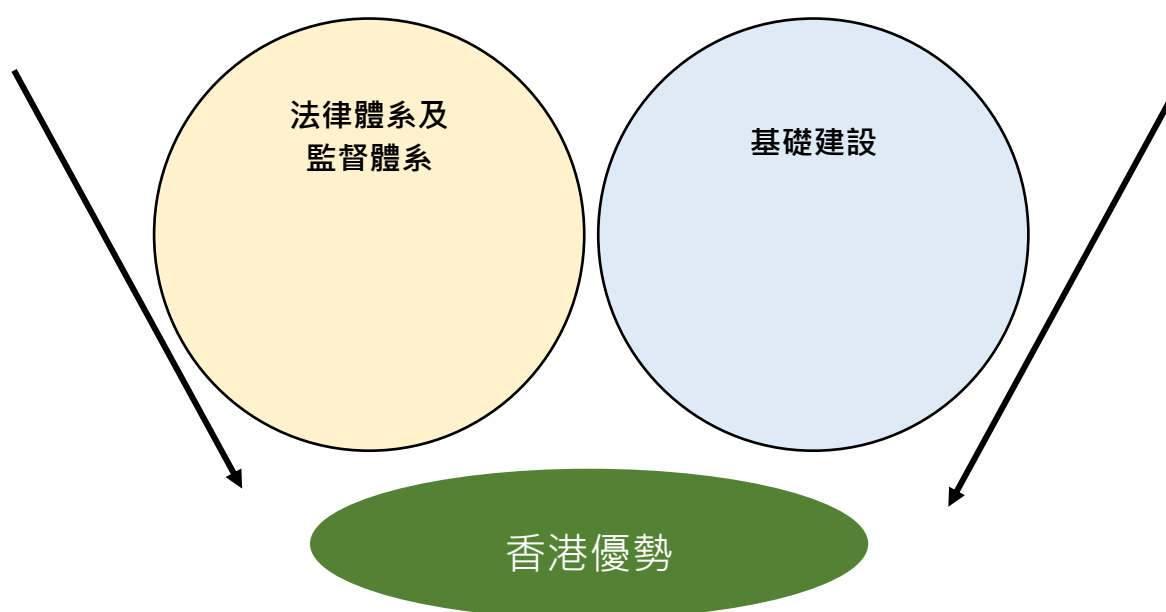


二、參觀展區 B「香港優勢」，完成以下問題。

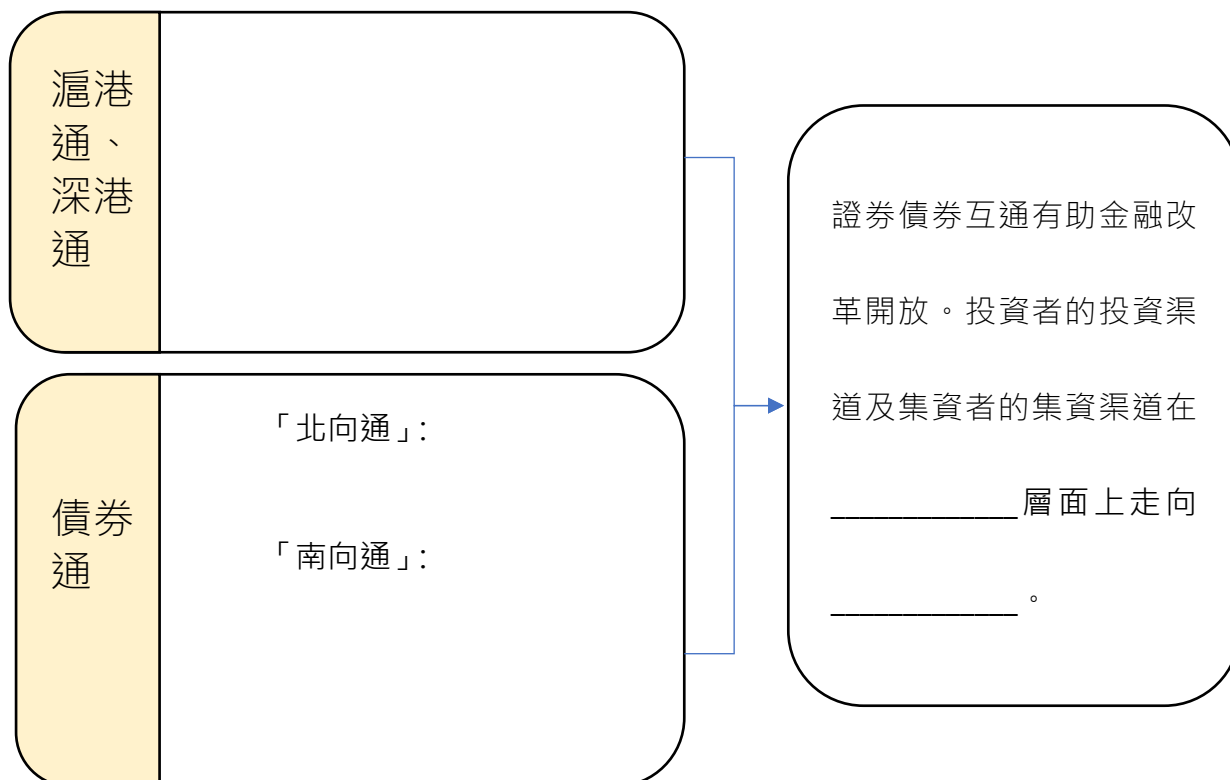
1. 根據展品 B01 思考廊，完成以下配對題。

- (1) 自身優勢 _____ A. 內地與香港債券市場開展互聯互通合作計劃。
- (2) 內地因素 _____ B. 香港位處亞太中心，可作為內地與世界的橋樑。
- (3) 經濟全球化 _____ C. 在香港可以購買美國的股票。

2. 根據展品 B04 及 B05，香港的法治與基礎建設怎樣成為香港優勢？



3. 根據展品 B08 的影片，解釋甚麼是證券債券互通及它們的作用。



4. 根據展品 B10，簡單說說甚麼是經濟全球化。

延伸資料

影片〈基本法多面睇〉〈第 6 集：金融自由、貨幣、外匯〉
公民教育委員會

<https://www.youtube.com/watch?v=WROEkCCT0-U>



影片〈基本法多面睇〉〈第 10 集：香港國際金融中心、財政預算、報稅〉公民教育委員會

<https://www.youtube.com/watch?v=NVdodKtgQcs>



三、參觀展區 C「機遇與挑戰」，完成以下問題。

1. 根據展品 C03，回答以下問題。

香港作為國際金融中心，金融業為香港市民提供大量就業機會。2017，香港相關行業的就業人數是_____，佔香港總就業人數的_____；至 2020 年，相關行業就業人數已上升至_____，比例達_____，可見金融為香港市民帶來更多就業機會。

2. 根據展品 C04 及以下資料，回答問題。

根據某研究院於 2021 年發表的《全球財富報告》，香港人均財富以平均數和中位數計算，均名列全球第三，平均財富達 50.33 萬美元(約 391 萬港元)，僅次於瑞士和美國。另有一份調查報告數據顯示，不少香港人持有股票及外幣戶口、其次是基金、債券、貴金屬、期權期貨等產品，成為香港人的資產增值的機會。

取材自 2021 年的報章報道

資料反映香港市民的投資渠道(多/少)，有助累積_____。

3. 根據展品 C05 及以下資料，回答問題。

美國聯儲局於香港時間周四公布議息結果，確定加息 0.75 厘，儘管已得到市場廣泛的共識，卻拖累美股及港股表現。.....

取材自 2022 年的報章報道

以上事例反映香港經濟(容易/難以)受外來因素影響而波動。

延伸閱讀

文章〈人行：體現中央重視港金融中心地位〉鳳凰網

<https://www.wenweipo.com/a/202207/05/AP62c351c9e4b033218a56013c.html>



文章〈香港回歸 25 周年：國際金融中心地位穩如磐石 回歸後內地與香港金融市場大事記〉文匯網

<https://finance.ifeng.com/c/8HHt6VrR88m>

