


姓名： \_\_\_\_\_  
班別及學號： \_\_\_\_\_ ( )  
日期： \_\_\_\_\_




觀看短片《保衛釣魚台》(第29集)，回答以下問題。

把以下事件按發生的先後次序排列。

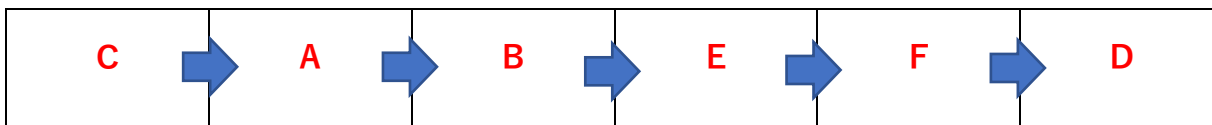
- A. 甲午戰爭後，戰敗的中國把台灣和附近島嶼割讓予日本，包括釣魚台列島。
- B. 日本在二戰戰敗，美國佔領了琉球群島，包括釣魚台列島。



- C. 《籌海圖編》標示了釣魚台的位置，顯示釣魚台早已在中國王朝版圖範圍。
- D. 日本右翼份子在釣魚台建燈塔，香港保釣人士到釣魚台宣示主權。



- E. 《舊金山和約》授權美國托管琉球群島和釣魚台列島。
- F. 美國把所佔島嶼，包括釣魚台在內的管治權歸還日本，觸發全球保釣運動。



### 延伸閱讀

《圖說近代：《馬關條約》簽訂》

<https://chiculture.org.hk/tc/photo-story/158>